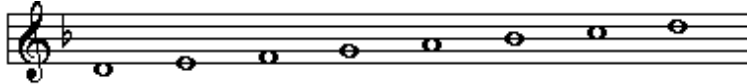


3. შემოხაზეთ მოსმენილი რიტმული ნახაზი:
 შეფასება _____ (მაქსიმუმ 15 ქულა)



4. განსაზღვრეთ მოსმენილი გამის მიხრილობა/ხასიათი - მაჟორია თუ მინორი
 შეფასება _____ (მაქსიმუმ 10 ქულა)

მაგალითი:





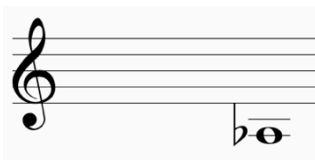
პასუხი: მინორი

მაგალითი:



პასუხი: მაჟორი

5. განსაზღვრეთ მოსმენილი ბგერის რეგისტრი (მაღალი, შუა, დაბალი)
 შეფასება _____ (მაქსიმუმ 20 ქულა)



პასუხი:

შუა რეგისტრი, დაბალი რეგისტრი, შუა რეგისტრი, მაღალი რეგისტრი.

6. განსაზღვრეთ/შემოხაზეთ მოცემული ინსტრუმენტი რომელ ჯგუფს მიეკუთვნება შეფასება _____ (მაქსიმუმ 20 ქულა)

- | | |
|--------------|-------------------|
| ა) ალტი | ლითონის ჩასაბერი |
| ბ) ტრომბონი | დასარტყამი |
| გ) კლარნეტი | ხემიანი/სიმებიანი |
| დ) ლიტავრები | ხის ჩასაბერი |

პასუხი:

- | | |
|--------------|-----------------------|
| ა) ალტი | ლითონის ჩასაბერი (ბ) |
| ბ) ტრომბონი | დასარტყამი (დ) |
| გ) კლარნეტი | ხემიანი/სიმებიანი (ა) |
| დ) ლიტავრები | ხის ჩასაბერი (გ) |